

# 令和 7 年度 学力検査 問題

## 社 会

### 〔注意〕

- (1) 「はじめ」の合図があるまでは、この問題冊子を開いてはいけません。  
この「注意」をよく読んでいてください。
- (2) 社会の検査時間は 30 分です。
- (3) 問題は 1 ページから 11 ページまであります。  
解答用紙は 1 枚で、この問題冊子の中にはさんであります。
- (4) 受検番号と氏名をこの表紙と解答用紙に必ず記入してください。
- (5) 答えはすべて解答用紙に記入してください。また、語句で解答する問題については、教科書等に漢字で書かれているものはすべて漢字で答えてください。
- (6) 問題の内容についての質問には応じません。印刷のはっきりしないところがある場合には、静かに手をあげて係の先生に知らせてください。
- (7) 筆記用具などを落とした場合は、静かに手をあげて係の先生に知らせてください。

| 受検番号 |  |  |  |  |  |
|------|--|--|--|--|--|
|      |  |  |  |  |  |

|     |  |
|-----|--|
| 氏 名 |  |
|-----|--|

1 あとの問いに答えなさい。

問1 次の地図は、愛知県豊田市を表す2万5千分の1の地形図です。これを見て、あとの問いに答えなさい。



(国土地理院「地理院地図」より作成)

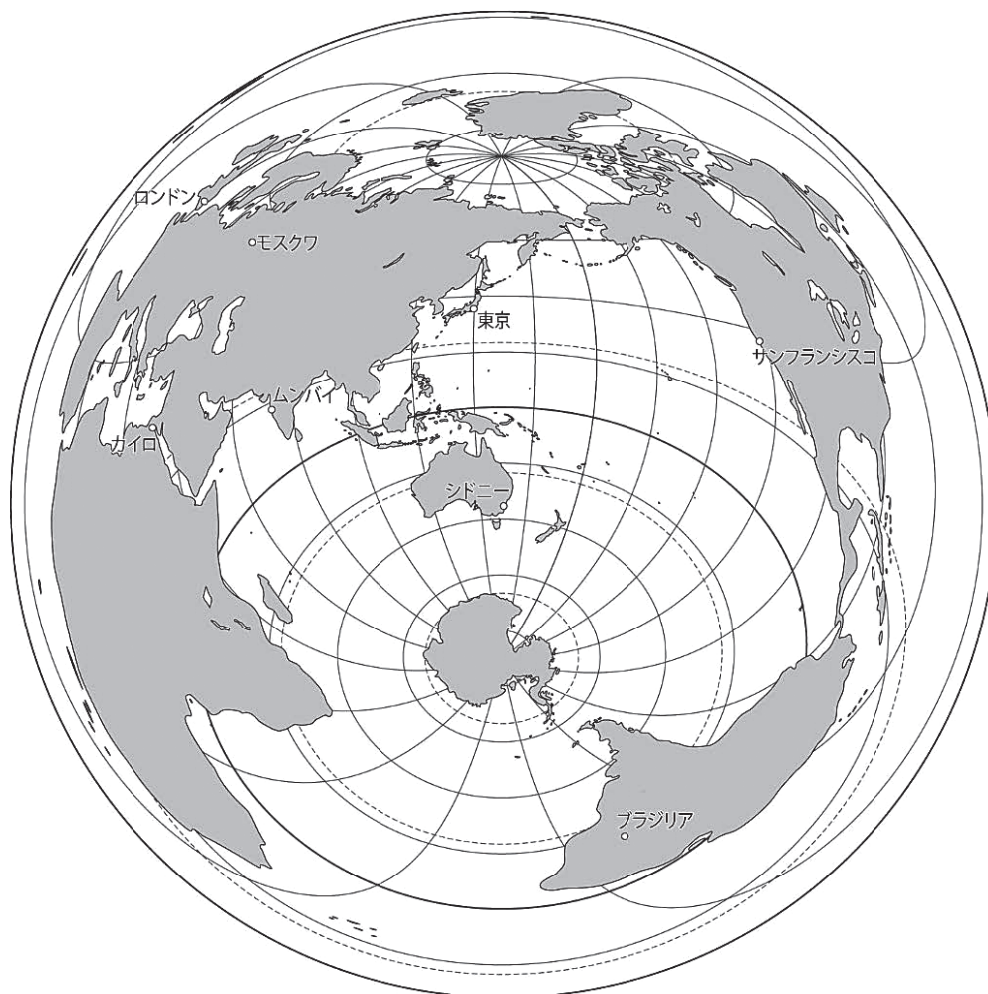
(1) 「豊田市駅」から南側に進んでいったときに見ることができない施設を、次のア～エから1つ選びなさい。

ア 裁判所      イ 市役所      ウ 消防署      エ 発電所

(2) 「豊田市駅」から「豊田スタジアム」まで測ったところ、地図上の距離で約5cmでした。実際の距離は約何mか答えなさい。

問2 次の【地図】は、シドニーからの方位と距離が正しく表されています。これを見て、あとの問いに答えなさい。

【地図】



(1) 次の都市ア～オの中で、シドニーから最も遠い地点にある都市はどこか。次のア～オから1つ選びなさい。

- |         |            |      |
|---------|------------|------|
| ア ロンドン  | イ モスクワ     | ウ 東京 |
| エ ブラジリア | オ サンフランシスコ |      |

(2) シドニーとムンバイとを直線で結んだ時の説明として誤っているものを、次のア～エから1つ選びなさい。

- ア シドニーからムンバイまでの距離は、シドニーから東京までの距離よりも短い。
- イ シドニーからみたムンバイの方位はおおよそ北西である。
- ウ シドニーからムンバイまで結んだ直線は、両都市の最短距離である。
- エ シドニーからムンバイまでの最短距離は、地球一周の約4分の1である。

問3 地産地消について述べた文として誤っているものを，次のア～エから1つ選びなさい。

ア 地産地消とは，地元で生産された農産物や水産物を，その地域で消費しようとすることをいう。

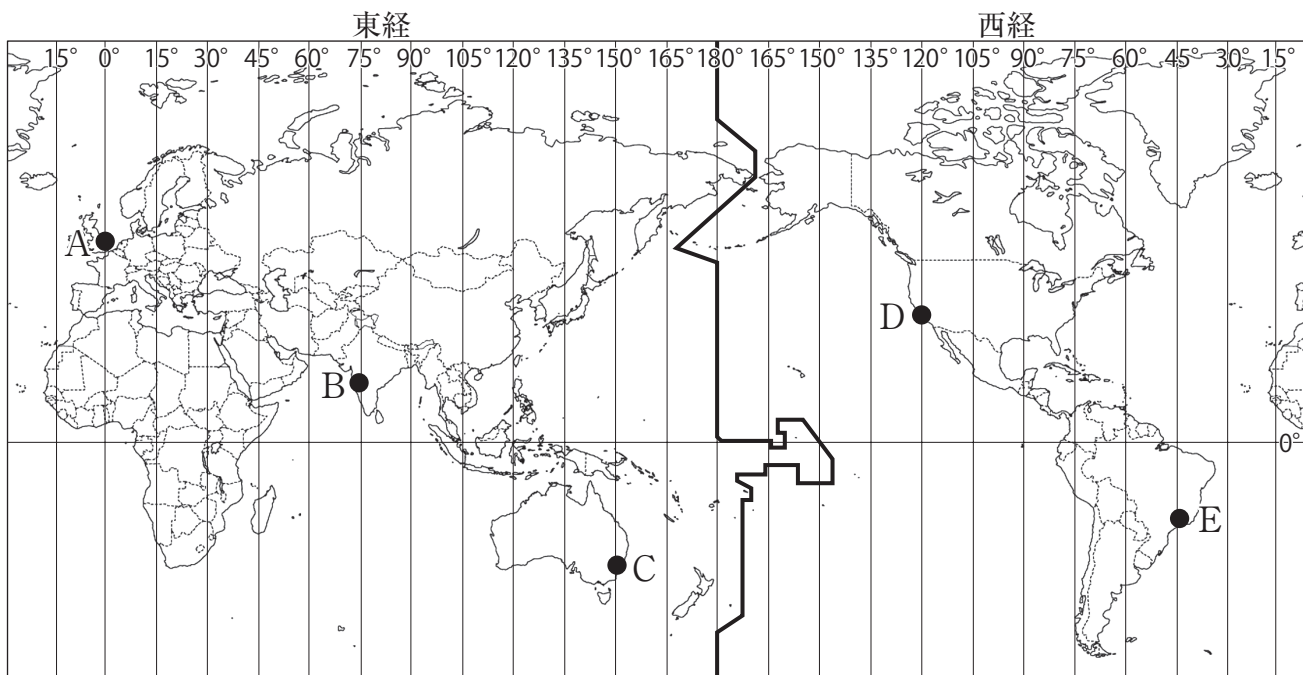
イ 地産地消の試みとして，地元で生産された食材を積極的に学校給食に取り入れている地方公共団体もある。

ウ 消費者にとって，生産者との距離が近く，新鮮な食材を手に入れやすい地産地消は，安心を得やすい。

エ 全国で地産地消が進むと，日本のフード・マイレージが大きくなることが予想される。

問4 次の【地図】を見て，あとの問いに答えなさい。

【地図】



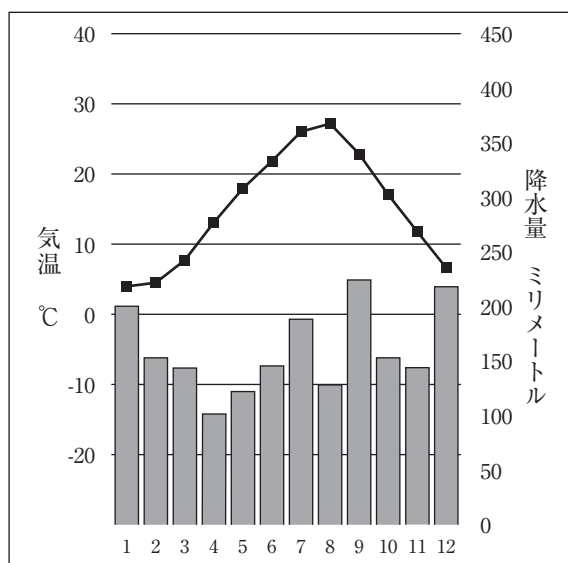
(1) 【地図】中の地点Bが8月6日午前10時のとき，地点Dの時刻は何月何日の何時か答えなさい。

(2) 【地図】中の地点A～Eの二つの地点の時差が一番大きくなるものを，次のア～エから1つ選びなさい。

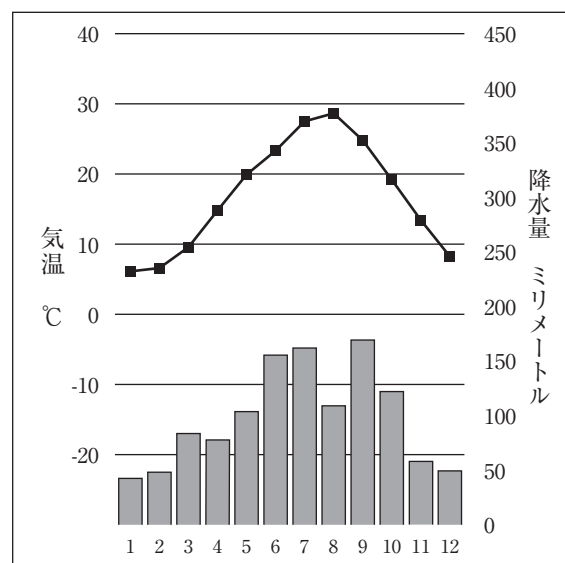
ア A-B      イ B-C      ウ C-D      エ D-E

問5 次のA～Cの雨温図は、鳥取市、高松市、高知市のいずれかを表している。それぞれのグラフと都市の組み合わせとして正しいものを、下のア～カから1つ選びなさい。

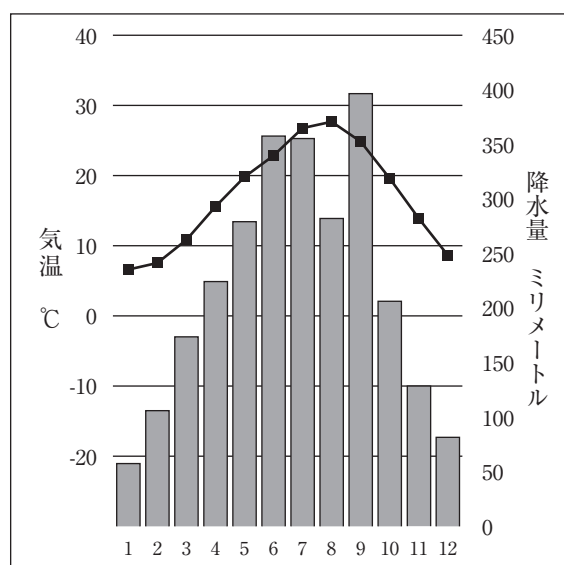
A



B



C



|   | A   | B   | C   |
|---|-----|-----|-----|
| ア | 高知市 | 高松市 | 鳥取市 |
| イ | 高知市 | 鳥取市 | 高松市 |
| ウ | 高松市 | 高知市 | 鳥取市 |
| エ | 高松市 | 鳥取市 | 高知市 |
| オ | 鳥取市 | 高知市 | 高松市 |
| カ | 鳥取市 | 高松市 | 高知市 |



問6 次の図が表す県と<sup>りんせつ</sup>隣接していない県はどこか。下のア～カから全て選びなさい。



- ア 三重県      イ 長野県      ウ 岐阜県  
エ 山梨県      オ 滋賀県      カ 静岡県

問7 次の表は農家で働く人の<sup>ねんれいかいそう</sup>年齢階層を各年代ごとで<sup>ひかく</sup>比較した資料である。この表を参考にしなが、日本で機械化を推進しなければならない理由を説明しなさい。

| 年齢階層      | 2000 年 | 2010 年 | 2015 年 |
|-----------|--------|--------|--------|
| 15 ～ 29 才 | 247 人  | 90 人   | 64 人   |
| 30 ～ 39 才 | 192 人  | 87 人   | 77 人   |
| 40 ～ 49 才 | 365 人  | 147 人  | 110 人  |
| 50 ～ 59 才 | 523 人  | 358 人  | 234 人  |
| 60 ～ 64 才 | 507 人  | 319 人  | 280 人  |
| 65 才以上    | 2058 人 | 1605 人 | 1331 人 |

【2】 次の年表を読み、あとの問いに答えなさい。

| 世紀    | できごと                                 |
|-------|--------------------------------------|
| 5～6   | ワカタケル大王の活躍 (A)                       |
| 7     | 壬申の乱がおこる (B)                         |
| 12～13 | 鎌倉仏教が成立 (C)                          |
| 14    | <small>ろくおんじ</small> 鹿苑寺金閣が建てられる (D) |
| 16    | 明智光秀が豊臣秀吉に敗れる (E)                    |
| 17～19 | 江戸時代が約 260 年続く (F)                   |
| 19    | 明治維新がおこる (G)                         |
| 20    | 第 1 次世界大戦がおこる (H)                    |

【資料】



【資料】 は年表中 (A) のワカタケル大王の名前が刻まれており、埼玉県のと ( ① ) から出土した鉄剣である。同じ名前が刻まれた鉄刀が熊本県でも出土した。

問 1 ( ① ) に入る古墳の名前と、この鉄剣に刻まれた人物の説明の組み合わせとして正しいものを、下のア～カから 1 つ選びなさい。

《①に入る古墳名》

- a いなりやま 稲荷山古墳      b こんだごびょうやま 誉田御廟山古墳

《人物の説明》

- c 中国の皇帝から「漢委奴国王」の金印を授かった。  
 d 豪族を支配し、のちに雄略天皇と呼ばれた。  
 e 中国の制度を参考にし、大宝律令を制定した。

ア a・c    イ a・d    ウ a・e    エ b・c    オ b・d    カ b・e

問2 年表中（B）で勝利し、即位した天皇名を答えなさい。

問3 年表中（C）に関連して、次の表の空欄（ ① ）（ ④ ）に当てはまる語句をそれぞれ答えなさい。

| 宗派    | 開祖    |
|-------|-------|
| 浄土真宗  | （ ① ） |
| 法華宗   | （ ② ） |
| （ ③ ） | 一遍    |
| （ ④ ） | 栄西    |

問4 年表中（D）を建てた人物の説明文として誤っているものを、次のア～エから1つ選びなさい。

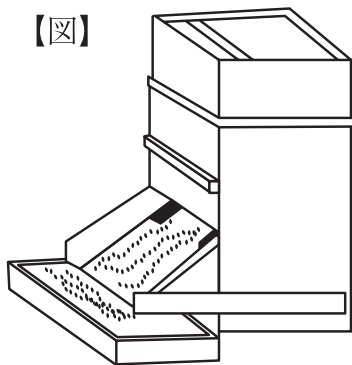
- ア 室町に花の御所とよばれる<sup>ごしよ</sup>屋敷<sup>やしき</sup>を建てて、政治をおこなった。  
 イ この人物の後継をめぐり、応仁の乱がおきた。  
 ウ 南北朝の統一を果たした。  
 エ 明との国交を開き、<sup>かんこう</sup>勘合貿易をおこなった。

問5 年表中（E）の戦い名として正しいものを、次のア～エから1つ選びなさい。

- ア 小牧・長久手の戦い                      イ 姉川の戦い  
 ウ <sup>しずがたけ</sup>賤ヶ岳の戦い                      エ <sup>やまざき</sup>山崎の戦い

問6 年表中（F）について、江戸時代の農具の一例として図の「せんこくどおし」があげられる。何のために使用するものか。下のア～エから1つ選びなさい。

【図】



- ア <sup>こくりゅう</sup>穀粒の大小を選別する                      イ もみがらや実のないもみをわける  
 ウ 田に種をまく                                      エ 田の土を深く<sup>たがや</sup>耕す



問7 年表中（F）の時に、日本は鎖国政策をとるようになった。それに関連する出来事ア～エを年代が古い順に並びかえなさい。

- ア ポルトガル船の来航の禁止
- イ 島原・天草の一揆
- ウ 日本人の海外渡航と帰国の禁止
- エ スペイン船の来航の禁止

問8 年表中（G）に関連して、明治時代に日本初の鉄道が開通した。開通した区間として、正しいものを、次のア～エから1つ選びなさい。

- ア 新橋－横浜
- イ 名古屋－大阪
- ウ 神戸－京都
- エ 埼玉－仙台

問9 年表中（G）について、明治政府の課題の1つとして、不平等条約の改正があげられる。条約改正交渉について述べた文として正しいものを、次のア～エから1つ選びなさい。

- ア 井上馨が鹿鳴館を開くなど、<sup>きょくたん</sup>極端な欧化政策を実施し、条約改正に成功する。
- イ モリソン号事件により、条約改正の世論が高まる。
- ウ 日露戦争直前に、外務大臣の陸奥宗光が<sup>りょうじさいばんけん</sup>領事裁判権の<sup>てっぱい</sup>撤廃に成功する。
- エ 外務大臣の小村寿太郎が関税自主権を完全に回復する。

問10 年表中（H）の第1次世界大戦後、国際連盟が設立された。国際連盟発足時の常任理事国として正しいものを、次のア～エから1つ選びなさい。

- ア イタリア
- イ アメリカ
- ウ ロシア
- エ ドイツ

③ あとの問いに答えなさい。

問1 次の文の空欄( ① )( ② )に当てはまる語句の組み合わせとして正しいものを、下のア～エから1つ選びなさい。

都道府県知事は( ① )以上に被選挙権が与えられ、任期は( ② )である。

- |   |        |       |
|---|--------|-------|
| ア | ① 25 歳 | ② 4 年 |
| イ | ① 25 歳 | ② 6 年 |
| ウ | ① 30 歳 | ② 4 年 |
| エ | ① 30 歳 | ② 6 年 |

問2 地方公共団体が地方議会で制定する、その地方公共団体のみに適用されるきまりのことを何というか。漢字2文字で答えなさい。

問3 今年度、東京都知事選挙(2024年7月7日投開票)がありました。それに関する文X・Yの正誤の組み合わせとして正しいものを、下のア～エから1つ選びなさい。

X この選挙において、56人の立候補があり、現職の小池百合子が当選した。

Y この選挙では、日本国籍を有する人は全員投票することができた。

- |   |     |     |   |     |     |
|---|-----|-----|---|-----|-----|
| ア | X－正 | Y－正 | イ | X－正 | Y－誤 |
| ウ | X－誤 | Y－正 | エ | X－誤 | Y－誤 |

問4 日本では、衆議院と参議院の二院制がとられているが、なぜ二院制がとられているのか。その理由を、説明しなさい。

問5 次の文の空欄( ① )に当てはまる語句を答えなさい。

憲法は、国の基本法であり、すべての法のうちで最も強い力をもつ国の( ① )である。

問6 次の文の空欄（ ① ）（ ② ）に当てはまる語句をそれぞれ答えなさい。

【日本国憲法 第9条】

日本国民は、正義と秩序を基調とする国際（ ① ）を誠実に希求し、国権の発動たる戦争と、武力による威嚇又は武力の行使は、国際紛争を解決する手段としては、永久にこれを放棄する。

前項の目的を達するため、陸海空軍その他の（ ② ）は、これを保持しない。国の交戦権は、これを認めない。

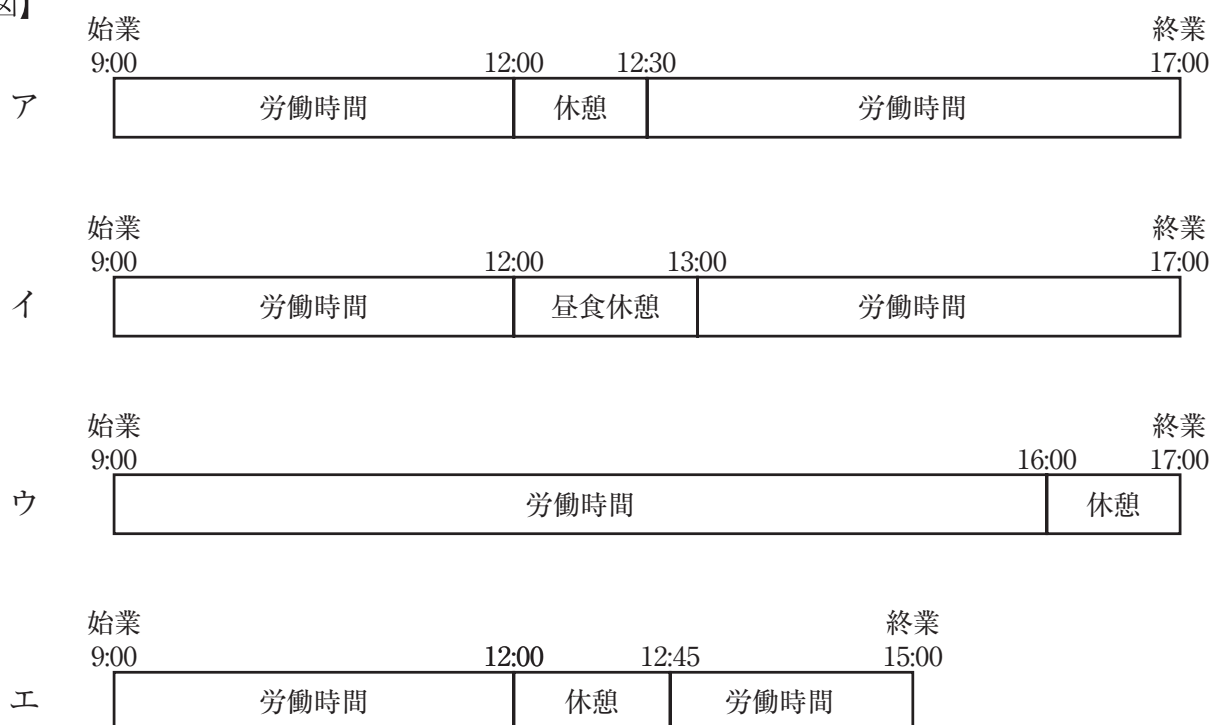
問7 次の【資料】は、労働基準法第34条の第1項と第3項です。これは仕事中の休憩について決められています。この決まりを違反しない形で休憩を取得・利用できているものを、下の4人の働き方を表した図中のア～エから1つ選びなさい。

【資料】

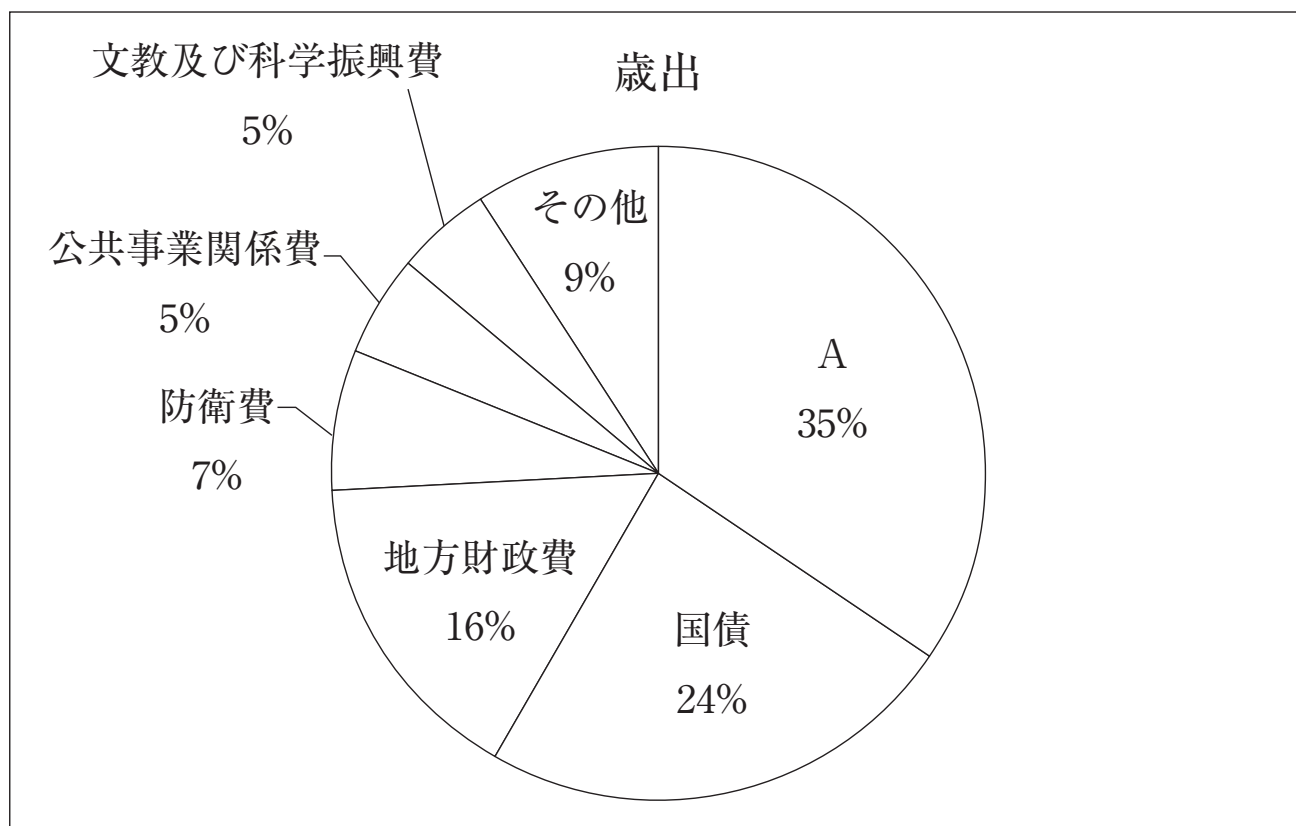
第1項 使用者は、労働時間が6時間を超える場合においては少なくとも45分、8時間を超える場合においては少なくとも1時間の休憩時間を労働時間の途中に与えなければならない。

第3項 使用者は、第1項の休憩時間を自由に利用させなければならない。

【図】



問8 次のグラフは、2024年度の日本の歳出<sup>さいしゅつ</sup>を表したものです。A に当てはまるものを、答えなさい。



問9 グラフ中の A の割合が増えているおもな理由を、説明しなさい。

令和7年度 学力検査 社会 解答用紙

清林館中学校

|          |  |  |  |  |  |  |  |    |  |
|----------|--|--|--|--|--|--|--|----|--|
| 受検<br>番号 |  |  |  |  |  |  |  | 氏名 |  |
|----------|--|--|--|--|--|--|--|----|--|

|   |           |   |           |    |         |           |         |           |    |    |  |
|---|-----------|---|-----------|----|---------|-----------|---------|-----------|----|----|--|
| 1 | 問1<br>(1) |   | 問1<br>(2) |    | m       | 問2<br>(1) |         | 問2<br>(2) |    |    |  |
|   | 問3        |   | 問4<br>(1) |    | 月       | 日         | 時       | 問4<br>(2) |    | 問5 |  |
|   | 問6        |   |           |    |         |           |         |           |    |    |  |
|   | 問7        |   |           |    |         |           |         |           |    |    |  |
| 2 | 問1        |   | 問2        |    |         |           | 問3<br>① |           |    |    |  |
|   | 問3<br>④   |   |           | 問4 |         | 問5        |         | 問6        |    |    |  |
|   | 問7        | →                      →                      → |           |    |         |           |         |           | 問8 |    |  |
|   | 問9        |   | 問10       |    |         |           |         |           |    |    |  |
| 3 | 問1        |   | 問2        |    |         | 問3        |         |           |    |    |  |
|   | 問4        |   |           |    |         |           |         |           |    |    |  |
|   | 問5        |   |           |    | 問6<br>① |           |         | 問6<br>②   |    |    |  |
|   | 問7        |   | 問8        |    |         |           |         |           |    |    |  |
|   | 問9        |   |           |    |         |           |         |           |    |    |  |